



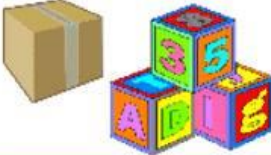




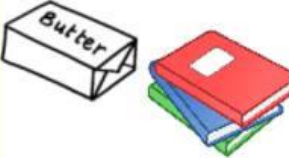
PETEK, 17. 4. 2020

MATEMATIKA

TELESA

DZ str. 100





- Ponovimo: ponovno poišči predmete v obliki kocke, valja, kvadra in krogle.
- Pri vsakem telesu povej: ime telesa, koliko ploskev ima, koliko robov ima in koliko oglišč. Vse to tudi pokaži na predmetu.

GEOMETRIJSKO TELO	ROBOVI, OGLIŠČA, PLOSKVE	NA KAJ TE SPOMINJA?
 STOŽEC	- 1 ROB - 2 PLOSKVI - 0 OGLIŠČ	
 KOCKA	- 12 ROBOV - 8 OGLIŠČ - 6 PLOSKEV	
 VALJ	- 2 ROBOVA - 3 PLOSKVE - 0 OGLIŠČ	
 KROGLA	- 0 ROBOV - 1 PLOSKEV - 0 OGLIŠČ	
 PIRAMIDA	- 8 ROBOV - 5 PLOSKEV - 5 OGLIŠČ	
 KVADER	- 12 ROBOV - 6 PLOSKEV - 8 OGLIŠČ	

- Reši 2. in 3. nalogo v delovnem zvezku na strani 100.

Preveri rešitve:

2. naloga:

				
Ime telesa:	kvader	valj	kocka	krogla
Število ploskev	6	3	6	1
Število robov	12	2	12	0
Število oglišč	8	0	8	0

3. naloga:

