

# ČETRTEK, 16. 4. 2020

## MATEMATIKA

### TELESA

DZ str. 99

- Poglej si posnetek z razlago snovi: telesa.






[https://www.youtube.com/watch?v=IcnDMAYrJGY&feature=youtu.be&fbclid=IwAR36Tf\\_CTEqIU\\_QGbZYr70mF1Z1is1TcM0TTalvR4RddWyAUPIANOmYGkjs](https://www.youtube.com/watch?v=IcnDMAYrJGY&feature=youtu.be&fbclid=IwAR36Tf_CTEqIU_QGbZYr70mF1Z1is1TcM0TTalvR4RddWyAUPIANOmYGkjs)

- ZAPIS V ZVEZEK:

### TELESA

	KOCKA	KROGLA	KVADER	VALJ
				
Število mejnih ploskev	6	1	6	3
Število robov	12	0	12	2
Število oglišč	8	0	8	0

- Doma poišči po en predmet, ki ima obliko kocke, krogle, kvadra in valja.

GEOMETRIJSKO TELO	ROBOVI, OGLIŠČA, PLOSKVE	NA KAJ TE SPOMINJA?
 STOŽEC	- 1 ROB - 2 PLOSKVI - 0 OGLIŠČ	
 KOCKA	- 12 ROBOV - 8 OGLIŠČ - 6 PLOSKVE	
 VALJ	- 2 ROBOVA - 3 PLOSKVE - 0 OGLIŠČ	
 KROGLA	- 0 ROBOV - 1 PLOSKEV - 0 OGLIŠČ	
 PIRAMIDA	- 8 ROBOV - 5 PLOSKEV - 5 OGLIŠČ	
 KVADER	- 12 ROBOV - 6 PLOSKEV - 8 OGLIŠČ	

- S pomočjo teh predmetov reši prvo nalogo v delovnem zvezku.
- Preveri pravilnost svojih rešitev.

Kocka ima 6 oglišč.	NE
Kvader ima 8 oglišč.	DA
Krogla ima eno mejno ploskev.	DA
Valj ima 2 roba.	DA
Valj ima manj mejnih ploskev kot krogla.	NE
Kocka ima enako število robov kot oglišč.	NE
Krogla nima oglišč.	DA
Krogla ima enako mnogo (enako število) robov in oglišč.	DA
Valj in krogla nimata enako mnogo oglišč.	NE