

**ČETRTEK, 9. 4. 2020**

**SLOVENŠČINA, SPOZNAVANJE OKOLJA, GLASBENA UMETNOST IN ŠPORT**

**Ta teden se boš pri SPO učil-a o skrbi za svoje zdravje. Tudi pri SLJ boš bral-a besedila, povezana z zdravjem.**

1. V DZ za slovenščino na straneh 54, 55 in 56 preberi besedila o osebni higieni, hrani in telesni dejavnosti.

**Po branju ustno odgovori na spodnja vprašanja.**

- **Kako ti je šlo branje?** A) Moje branje je tekoče. B) Moje branje še ni tekoče.
- **Si razumel-a prebrano besedilo?** A) Razumel-a sem vse. B) Razumel-a sem delno.
- Prosi starše, da tvoje branje posnamejo na telefon. Glasno beri 10 povedi.
- Poslušaj svoje branje. Razmisli, kaj bi lahko še izboljšal-a.

2. Pisno odgovori na spodnja vprašanja. Naslov v zvezku **Skrb za zdravje**. Odgovarjaj s celimi povedmi. Tudi vprašanja prepishi.

1. Kaj je osebna higiena?

2. Kako skrbimo za svoje zobe?

3. Zakaj moramo biti pozorni na čistočo rok?

4. Katere vrste hrane moramo jesti?

5. Zakaj se moramo veliko gibati na svežem zraku?

3. Poglej si kratek filmček na spodnji povezavi o SKRBI ZA ZDRAVJE.

<https://www.youtube.com/watch?v=0QUvCECXbBY>

4. Katera sličica ne sodi zraven in zakaj?



5. V zvezek za SPO prepisi spodnje besedilo. Naslov **Kako skrbimo za zdravje?**

1. **TELESNA DEJAVNOST** - hoja, tek, kolesarjenje, plavanje, gibanje na svežem zraku.
2. **OSEBNA HIGIENA** - topla voda in milo, higiena zob.
3. **POČITEK** - otroci moramo spati vsaj 10 - 11 ur na dan.
4. **ZDRAVA HRANA** - jemo vsaj petkrat na dan različno hrano in pijemo veliko vode.


6. Sedaj pa še nekaj minut telovadi s pomočjo spodnjega posnetka, da boš boj zdrav-a. Ne pozabi pred tem odpreti okno, da se nadihaš svežega zraka. <https://www.youtube.com/watch?v=UgRENY-okaM>

## MATEMATIKA


### Geometrijski liki

**Najprej ponovimo:** V zvezek napiši naslov **Geometrijski liki**.

Potem nariši spodnje like ter jih poimenuj.




TRIKOTNIK



KROG



PRAVOKOTNIK



KVADRAT

**NATANČNO VEČKRAT PREBERI SPODNJE BESEDILO!**

Odpri DZ na strani 102. Oglej si nalogo zgoraj.

Ko se **dve črti stikata, dobimo točko**. Ta točka se imenuje **oglišč**e (kot pri telesih).

**Črte, ki omejujejo lik, se imenujejo stranice**.

Pri tej nalogi je narisanih **pet črt in pet oglišč**. Torej je tu **pet stranic**. Zato ta lik imenujemo **petkotnik**.

Če bi lik imel **šest stranic in šest oglišč**, bi se imenoval **šestkotnik**, če bi imel **sedem stranic in sedem oglišč**, bi se imenoval **sedemkotnik** in tako naprej.

Če ima lik **tri stranice in tri oglišča**, se imenuje **trikotnik**.

Kadar ima lik **štiri stranice in štiri oglišča**, se imenuje **štirikotnik**. Mi poznamo **dva štirikotnika**, ki imata posebno ime - **kvadrat in pravokotnik**.

Reši 1. nalogo na strani 102 in stran 103.

**Ker radi zamenjamo pravilne izraze, ponovimo:**

**LIK**

oglišče

stranica

**TELO**

oglišče

rob

mejna ploskev

**Pri delu moraš nujno imeti ošiljene barvice in svinčnik ter risati s šablono!**

## **DODATNA, NEOBVEZNA NALOGA**

Šola na daljavo nam omogoča, da imamo zjutraj malo več časa za zajtrk, ki je tako pomemben obrok. Na spodnji povezavi je nekaj zanimivih predlogov za skupno ustvarjanje.

INFODROM: ZAJTRK ZA DOBRO JUTRO

<https://www.youtube.com/watch?v=VJXraGL-cJs>

