

PONEDELJEK, 16. 3. 2020

MATEMATIKA

Orientacija: DZ 70, 71

- Opazuj sliko v DZ, str. 70 in povej, kje so živali.



- 1. naloga: Dele povedi, ki spadajo skupaj, pobarvaj z enako barvo.

1. Dele povedi, ki spadajo skupaj, pobarvaj z enako barvo.

Muca je	nad košaro.
Psiček Piki je	ob kletki.
Zelena papiga je	desno od košare.
Morski prašiček je	levo od akvarija.
Želva je	pod mizo.

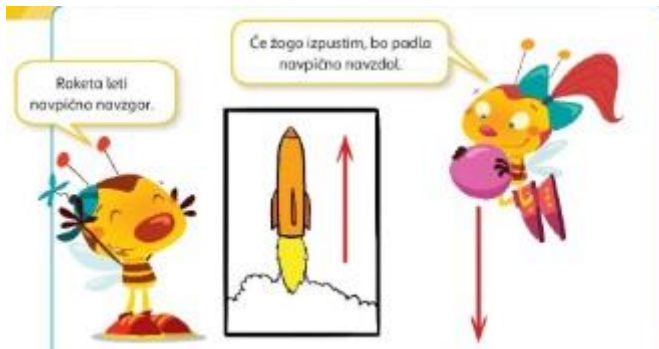
- 2. naloga: Spomni se na naš razred in povej kaj je v razredu ...

Odgovore zapiši v zvezek. Odgovarjaj v celih povedih.

Naslov: **Orientacija**
70/2



- Preberi pogovor med Lili in Binetom (DZ str. 71)




- Reši 3. in 4. nalogo na strani 71.


3. Če je trditev pravilna, pobarvaj okence pod DRŽI, če trditev ni pravilna, pobarvaj okence pod NE DRŽI.

	DRŽI	NE DRŽI
Curek vode iz pipe teče navpično navzgor.		
Jabotko pade z drevesa navpično navzdol.		
Brisača na vrvi visi navpično navzdol.		
Smreka raste navpično navzdol.		
Mravlja leze po drevesnem deblu navpično navzgor.		

4. Pod vlak nariši ustrezno puščico.



Vlak vozi vodoravno v desno.



Vlak vozi vodoravno v levo.

- Vadi poštrevanko (20 računov).

$8 \times 3 =$	$100 : 10 =$
$7 \times 7 =$	$91 : 9 =$
$10 \times 5 =$	$56 : 8 =$
$6 \times 2 =$	$35 : 7 =$
$1 \times 4 =$	$42 : 6 =$
$3 \times 8 =$	$40 : 5 =$
$5 \times 6 =$	$20 : 4 =$
$2 \times 9 =$	$18 : 3 =$
$4 \times 10 =$	$10 : 2 =$
$9 \times 8 =$	$80 : 8 =$